

ESTADO DE SANTA CATARINA
MUNICIPIO DE LAURO MULLER
CONCURSO PÚBLICO
EDITAL N° 04/2016

PROFESSOR II – HISTÓRIA



FAEPESUL
FUNDAÇÃO DE APOIO À EDUCAÇÃO, PESQUISA E EXTENSÃO DA UNISUL

Abril/2016

AVALIAÇÃO ESCRITA OBJETIVA
LEIA ATENTAMENTE AS INSTRUÇÕES ABAIXO

1. Você recebeu do fiscal o seguinte material:
 - a) Este **CADERNO DE PROVAS** com 10 (dez) questões de Língua Portuguesa, 10 (dez) questões de Matemática e 10 (dez) questões de Legislação Municipal e 10 (dez) questões Específicas para o cargo de **PROFESSOR II – HISTÓRIA**, sem repetição ou falha.
 - b) 1 (um) **CARTÃO RESPOSTA** relacionado a Avaliação para este cargo.
2. Verifique se este material está em ordem e se o seu nome e o seu número de inscrição conferem com os que aparecem no **CARTÃO RESPOSTA**. Caso contrário, notifique o fato **IMEDIATAMENTE** ao fiscal.
3. Após a conferência, o candidato deverá assinar, no espaço próprio do **CARTÃO RESPOSTA**, com caneta esferográfica transparente de tinta na cor preta ou azul.
4. Tenha muito cuidado com o **CARTÃO RESPOSTA**, para não o **DOBRAR, AMASSAR** ou **MANCHAR**.
5. **SERÁ ELIMINADO** deste Processo Seletivo Público o candidato que:
 - a) Se utilizar, durante a realização da prova, de máquinas e/ou relógios de calcular, bem como de rádios gravadores, headphones, telefones celulares ou fontes de consultas de qualquer espécie.
 - b) Se ausentar da sala em que se realiza a prova levando consigo **CADERNO DE PROVA** e/ou **CARTÃO RESPOSTA**.
 - c) Se recusar a entregar o **CADERNO DE PROVAS** e/ou o **CARTÃO RESPOSTA** quando terminar o tempo estabelecido.
 - d) Não assinar a **LISTA DE PRESENÇA** e/ou o **CARTÃO RESPOSTA**.
6. O Candidato somente poderá se ausentar do local de aplicação das provas após **1 (uma)** hora contada a partir do efetivo início.
7. O **CADERNO DE PROVAS** não poderá ser levado pelo Candidato, em qualquer momento.
8. Quando terminar, entregue ao fiscal, sob pena de eliminação, o **CADERNO DE PROVAS** e o **CARTÃO RESPOSTA**.
9. O tempo disponível para realização desta Avaliação é de até **04h00min. (quatro horas)** para os candidatos que escolheram mais de uma opção, estando compreendido, neste período, o preenchimento do **CARTÃO RESPOSTA**.
10. As questões desta Avaliação estarão disponíveis, no primeiro dia útil após a sua realização no endereço eletrônico: **www.fapesul.org.br/concursos**.

Boa Prova!

LÍNGUA PORTUGUESA

Texto para as questões de 1 a 5:

EU, ETIQUETA

Em minha calça está grudado um nome
que não é meu de batismo ou de cartório,
um nome... estranho.

Meu blusão traz lembrete de bebida
que jamais pus na boca, nesta vida.

Em minha camiseta, a marca de cigarro
que não fumo, até hoje não fumei.

Minhas meias falam de produto
que nunca experimentei
mas são comunicados a meus pés.

Meu tênis é proclama colorido
de alguma coisa não provada
por este provador de longa idade.

Meu lenço, meu relógio, meu chaveiro,
minha gravata e cinto e escova e pente,

meu copo, minha xícara,
minha toalha de banho e sabonete,
meu isso, meu aquilo,

desde a cabeça ao bico dos sapatos,
são mensagens,

letras falantes,

gritos visuais,

ordens de uso, abuso, reincidência,

costume, hábito, **premência**,

indispensabilidade,

e fazem de mim homem-anúncio itinerante,
escravo da matéria anunciada.

Estou, estou na moda.

É duro andar na moda, ainda que a moda
seja negar minha identidade,

trocá-la por mil, **açambarcando**

todas as marcas registradas,

todos os logotipos do mercado.

Com que inocência demito-me de ser

eu que antes era e me sabia

tão diverso de outros, tão mim mesmo,

ser pensante, sentinte e solidário

com outros seres diversos e conscientes

de sua humana, invencível condição.
Agora sou anúncio,
ora vulgar ora **bizarro**,
em língua nacional ou em qualquer língua
(qualquer, principalmente).
E nisto me comparo, tiro glória
de minha anulação.
Não sou - vê lá - anúncio contratado.
Eu é que mimosamente pago
para anunciar, para vender
em bares festas praias **pérgulas** piscinas,
e bem à vista exibo esta etiqueta
global no corpo que desiste
de ser veste e sandália de uma essência
tão viva, independente,
que moda ou suborno algum a compromete.
Onde terei jogado fora
meu gosto e capacidade de escolher,
minhas **idiosincrasias** tão pessoais,
tão minhas que no rosto se espelhavam
e cada gesto, cada olhar
cada vinco da roupa
sou gravado de forma universal,
saio da estamperia, não de casa,
da vitrine me tiram, recolocam,
objeto pulsante mas objeto
que se oferece como signo de outros
objetos estáticos, tarifados.
Por me ostentar assim, tão orgulhoso
de ser não eu, mas artigo industrial,
peço que meu nome retifiquem.
Já não me convém o título de homem.
Meu nome novo é coisa.
Eu sou a coisa, coisamente.

1. Nas provocações reflexivas de Drummond, o texto acima tem como questão central:

- A) A influência da mídia no comportamento.
- B) O mercado nacional da moda.
- C) As consequências da globalização da moda.
- D) Estilos da juventude atual.
- E) Comportamentos e modismos.

2. Quanto ao vocabulário do texto, observe:

- I. “Premência”: o que é urgente; o que tem urgência.
- II. “Açambarcando”: tomar com exclusividade; chamar a si (algo), privando os outros de desfrutarem da mesma vantagem; monopolizar.
- III. “Bizarro”: estranho, exótico, diferente.
- IV. “Pérgulas”: prateleiras em lojas e mercados.
- V. “Idiosincrasias”: comportamento típico e exclusivo de uma tribo.

Sobre essas afirmativas, podemos dizer que:

- A) IV e V estão corretas.
- B) III e IV estão corretas.
- C) I, II e III estão corretas.
- D) Todas estão corretas.
- E) Somente a V está correta.

3. “Por me ostentar assim, tão orgulhoso / de ser não eu, mas artigo industrial, / peço que meu nome retifiquem”. Nesses versos, segundo o contexto em análise, a palavra “retifiquem” tem o significado de:

- A) confirmar.
- B) corrigir.
- C) divulgar.
- D) publicar.
- E) industrializar.

4. “Estou, estou na moda.
É duro andar na moda, ainda que a moda
seja negar minha identidade,
trocá-la por mil (...)”

Nos versos “negar minha identidade, / trocá-la por mil”, verifica-se a presença de uma figura de linguagem. Essa figura é:

- A) Metonímia.
- B) Metáfora.
- C) Anacoluto.
- D) Catacrese.
- E) Hipérbole.

5. Analisando a acentuação gráfica das palavras sublinhadas no texto:

- I. “Cartório” e “relógio” são paroxítonas acentuadas, porque terminam em ditongo crescente.
- II. “Tênis” é uma paroxítona terminada em “i”, seguido de “s”. Por isso, acentuada.
- III. “Reincidência” é uma paroxítona terminada em hiato, confirmando a presença do acento gráfico.

Sobre essas afirmativas, temos:

- A) Somente a III está correta.
- B) I e III estão corretas.
- C) II e III estão corretas.
- D) I e II estão corretas.
- E) Todas estão corretas.

6. Marque a alternativa em que a concordância nominal esteja CORRETA:

- A) Desde que comprovadas as faltas, sofrerá punições as instituições que não respeitarem a lei vigente.
- B) Novas taxas de juro, segundo os economistas internacionais, será anunciado na próxima semana.
- C) Foi inaugurada ontem, depois de vários cancelamentos, novas obras da administração local.
- D) Prossegue implacável as denúncias contra governantes e empreiteiros do nosso país.
- E) Não estão previstas, até o momento, novas datas para a realização das provas.

7. Em somente uma das alternativas abaixo a concordância nominal NÃO está de acordo com as regras nominais. Indique-o.

- A) Cumprimento de menos horas extras.
- B) Ponto de vista e argumentação sensatos.
- C) Documentos anexos ao processo.
- D) Leitura de bastante livros.
- E) Crimes de lesa-patriotismo.

8. Assinale o período em que a concordância verbal NÃO é aceita pela gramática culta da Língua Portuguesa:

- A) Promovem-se muitas festas beneficentes nesta instituição de ensino.
- B) Os Estados Unidos comemora novas eleições.
- C) Fala-se de crises políticas, corrupção e propina.
- D) Deve haver orientações para as famílias prejudicadas pelas enchentes.
- E) Segundo a reportagem, fazia anos que estavam afastados dos pais.

9. Atento ao emprego dos Homônimos, analise as palavras sublinhadas e identifique a alternativa CORRETA:

- A) Ainda vivemos no Brasil a discriminação racial. Isso é crime!
- B) Com a crise política, a renúncia já parecia eminente.
- C) Descobertas as manobras fiscais, os políticos irão agora expiar seus crimes.
- D) Em todos os momentos, para agir corretamente, é preciso o bom censo.
- E) Prefiro macarronada com molho, mas sem estrato de tomate.

10. Observe o texto a seguir:

“Ando devagar
Porque já tive pressa
E levo esse sorriso
Porque já chorei demais

Hoje me sinto mais forte
Mais feliz, quem sabe
Só levo a certeza
De que muito pouco sei
Ou nada sei

(...) É preciso amor
Pra poder pulsar
É preciso paz pra poder sorrir
É preciso a chuva para florir (...).”

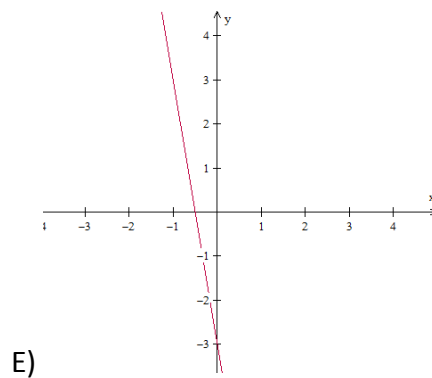
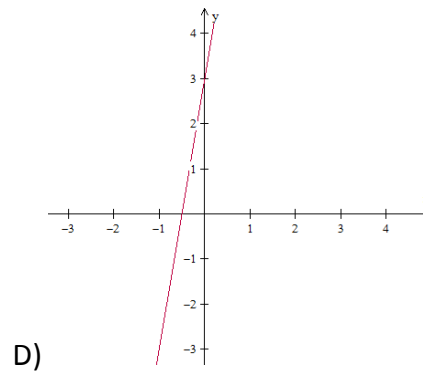
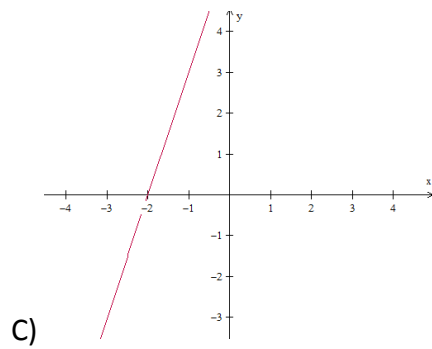
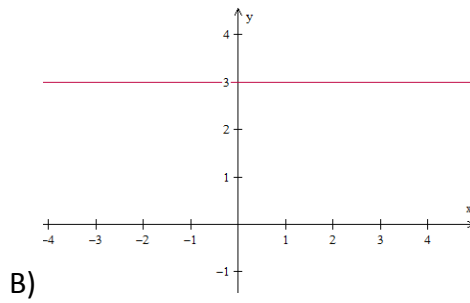
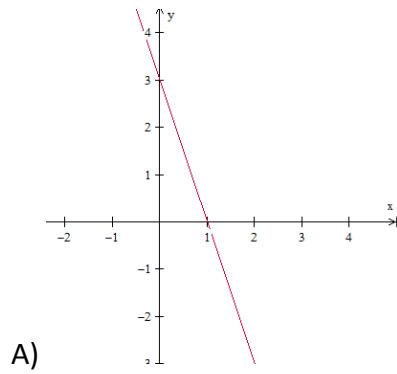
(Tocando em frente, de Almir Sater)

A linguagem é uma forma de sintonia com o mundo, pois através dela conseguimos nos expressar e comunicar de diferentes formas. Como há diferentes formas, também há diferentes intenções e, por isso, diferentes funções. Qual é função da linguagem predominante no texto acima?

- A) Função Emotiva.
- B) Função Apelativa.
- C) Função Metalinguística.
- D) Função Referencial.
- E) Função Poética.

MATEMÁTICA

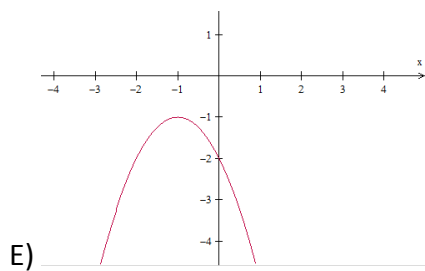
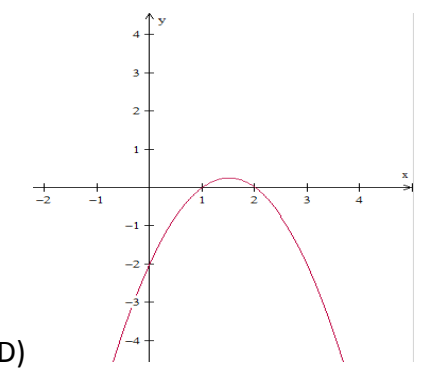
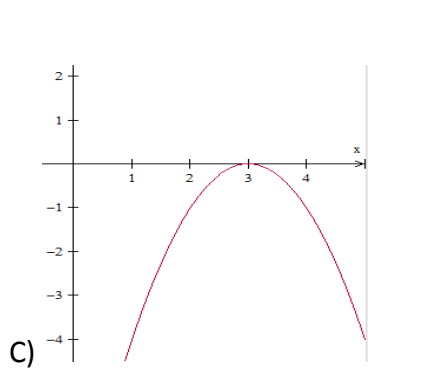
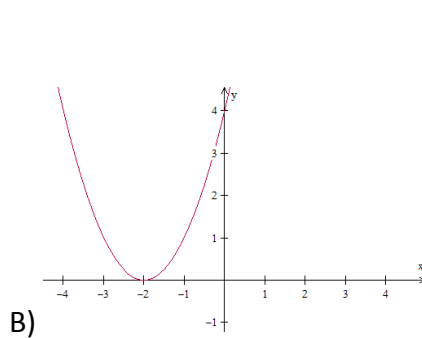
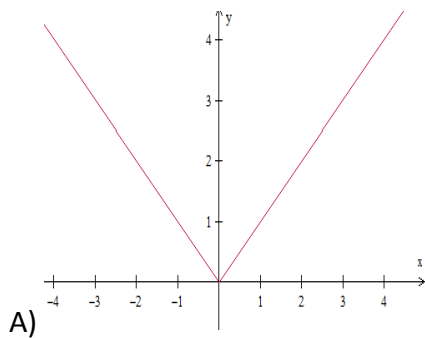
11. Assinale a alternativa que representa graficamente a função cuja lei de formação é dada por $y = f(x) = 3x + 6$



12. Assinale a assertiva que apresenta o conjunto solução da inequação $-x^2 + 2x + 8 \leq 0$

- A) $S = \{x \in \mathbb{R} \mid x \leq -4\}$
- B) $S = \{x \in \mathbb{R} \mid -2 \leq x \leq 4\}$
- C) $S = \{x \in \mathbb{R} \mid x \leq -4 \text{ ou } x \geq 2\}$
- D) $S = \{x \in \mathbb{R} \mid x \leq -2 \text{ ou } x \geq 4\}$
- E) $S = \emptyset$

13. Assinale a alternativa que apresenta a função $y = f(x) = ax^2 + bx + c$, em que $a < 0$ e $\Delta = b^2 - 4ac < 0$



14. Assinale a alternativa INCORRETA:

A) Sejam A e A^{-1} , a matriz A e sua inversa, respectivamente. É sempre válido que $\det(A^{-1}) = \det(A)$, em que A e A^{-1} são matrizes quadradas de ordem n .

B)
$$\begin{vmatrix} -1 & 2 & 4 & 11 \\ 0 & 0 & 0 & 0 \\ -1/2 & \sqrt{2} & \pi & \sqrt{3} \\ 4 & -1 & \sqrt{3} & 4 \end{vmatrix} = 0$$

C) $\begin{vmatrix} a & b & c \\ d & e & f \\ g & h & i \end{vmatrix} = \begin{vmatrix} a & d & g \\ b & e & h \\ c & f & i \end{vmatrix}$, em que a, b, c, d, e, f, g, h e i são números reais quaisquer.

D) O elemento b_{34} da matriz $B = A^T$ (transposta de A), em que $a_{ij} = i^2 + 3j$ é 25.

E) $A_{m \times n} \cdot B_{p \times q}$ existirá, se e somente se, $n = p$.

15. Considere que:

$(x, 7, x + 6)$ é uma PA e,

$(y, 16, x)$ é uma PG

Assinale a alternativa em que apresenta o valor de $2x - 3y$.

A) 13

B) -277

C) 1

D) 254

E) -184

16. Maurício, proprietário de um pequeno estabelecimento comercial na cidade onde reside, observando o momento econômico e a forte demanda, aumentou o preço de seus produtos em 125%. Entretanto, com o aumento, as vendas sofreram uma enorme queda, o que forçou Maurício a praticar os preços antes do aumento. Assim, determine *aproximadamente*, a porcentagem que representa o desconto aplicado para que os preços retornassem ao patamar inicial.

- A) 55,55%
- B) 44,44%
- C) 125%
- D) 62,5%
- E) 71,25%

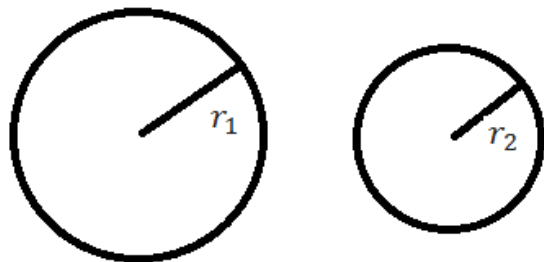
17. Determine a razão entre o *lucro* e o *preço de venda* de um produto que teve um custo de R\$ 750,00 e será vendido por um valor acrescido de 35% em relação ao seu preço de custo.

- A) $\frac{11}{20}$
- B) $\frac{7}{13}$
- C) $\frac{2}{3}$
- D) $\frac{7}{27}$
- E) $\frac{4}{35}$

18. Considere um círculo de área (A_1) e raio r_1 . Assim, se definirmos um novo círculo de raio r_2 , em que r_2 é igual a 60% de r_1 , temos que sua área A_2 será igual a:

(Lembre-se de que: $A_c = \pi r^2$)

- A) $A_2 = 60\% A_1$
- B) $A_2 = 36\% A_1$
- C) $A_2 = 70\% A_1$
- D) $A_2 = 54\% A_1$
- E) $A_2 = 49\% A_1$



19. Assinale a assertiva que apresenta a *média aritmética simples*, a *moda* e a *mediana*, respectivamente, da sequência (8, 9, 6, 4, 3, 11, 7, 10, 14, 14).

- A) 8,6 – 8 – 14
- B) 8,6 – 14 – 8
- C) 8,6 – 14 – 8,5
- D) 8 – 14 – 9,1
- E) 7,8 – 14 – 9

20. Considere t e u as raízes reais e distintas da equação $x^2 - 2x - 5 = 0$ e, assinale a alternativa que apresenta o valor da expressão $t^2 + u^2$.

- A) 13
- B) 14
- C) 7
- D) -3
- E) impossível de determinar

LEGISLAÇÃO MUNICIPAL

21. Conforme a Lei Orgânica do Município de Lauro Muller, marque a alternativa CORRETA:

- A) São poderes do Município, independentes e harmônicos entre si, o Legislativo, o Executivo e o Judiciário.
- B) A criação do município poderá efetuar-se mediante fusão de dois ou mais Distritos que serão suprimidos de acordo com a Lei Orgânica.
- C) O Município de Lauro Muller é pessoa jurídica de direito público interno, com autonomia política, administrativa e financeira.
- D) Incluem-se entre os bens do Município os imóveis, móveis, jazidas e semoventes, por natureza ou acessão física, inclusive os direitos e ações que a título oneroso lhe pertençam.
- E) São símbolos do Município a Bandeira, o Brasão, e o Hino.

22. Marque a alternativa que corresponde com o disposto na Lei Orgânica sobre orçamento:

- A) O Poder Executivo publicará, até trinta dias após o encerramento de cada bimestre, relatórios resumidos da execução orçamentária.
- B) Leis de iniciativa exclusiva da Mesa da Câmara estabelecerão o plano plurianual; as diretrizes orçamentárias; e os orçamentos anuais.
- C) A Lei Orçamentária Anual não conterà dispositivo estranho à fixação de receita e à previsão de despesa.
- D) Os Projetos de lei relativos ao plano plurianual, e ao orçamento anual e os créditos adicionais serão apreciados pelas Comissão Mista de Orçamento e Finanças.
- E) São de iniciativa exclusiva do Presidente da Câmara as leis que dispõem sobre matéria orçamentária e as que autorizam a abertura de crédito ou concedam auxílios, prêmios e subvenções.

23. Com relação à Câmara Municipal, marque a alternativa que está de acordo com a Lei Orgânica:

- A) A Câmara Municipal é composta de 11 Vereadores eleitos pelo sistema proporcional, como representantes do povo com mandato de quatro anos, sendo 11 titulares e 4 suplentes.
- B) Cada legislatura terá a duração de quatro anos.
- C) São condições de elegibilidade para o mandato de Vereador, dentre outras, a nacionalidade brasileira, o alistamento militar para os candidatos do sexo masculino; a idade mínima de dezoito anos; e ser alfabetizado.
- D) A Câmara Municipal reunir-se-á anualmente, na sede do município, de 02 de fevereiro a 17 de julho e de 1^o de agosto a 22 de dezembro, devendo haver pelo menos uma sessão legislativa por semana.
- E) As deliberações da Câmara serão tomadas por maioria relativa de votos, presente a maioria absoluta de seus membros.

24. Os atos administrativos deverão ser expedidos de acordo com a Lei Orgânica do Município de Lauro Muller:

- I. A regulamentação de leis deve ser feita por decreto, os quais devem ser numerados em ordem cronológica.
- II. Por portaria se aprova regulamento ou regimento das entidades que compõem a administração municipal.
- III. A abertura de créditos especiais e suplementares, até o limite autorizado por lei, assim como de créditos extraordinários deverá ser expedida através de portaria, numerada e em ordem cronológica.
- IV. A declaração de utilidade pública ou interesse social, para fins de desapropriação ou de servidão administrativa deverá ser instrumentalizada através de decreto, numerado e em ordem cronológica.
- V. Por portaria se expede os atos de provimento e vacância dos cargos públicos e demais atos de efeitos individuais.

Marque a alternativa CORRETA:

- A) Apenas as afirmativas II, IV e V estão corretas.
- B) Apenas as afirmativas I e V estão corretas.
- C) Apenas as afirmativas I, II e V estão corretas.
- D) Apenas as afirmativas I, IV e V estão corretas.
- E) Apenas as afirmativas III, IV e V estão corretas.

25. Com relação aos servidores da administração pública municipal:

- I. O Município instituirá, por iniciativa do Prefeito Municipal, para os servidores da administração direta, do Poder Executivo, das autarquias e fundações públicas, regime jurídico único e planos de carreira.
- II. O servidor público tem direito ao vencimento ou salário não inferior ao piso de vencimentos Nacional.
- III. A lei assegurará, aos servidores da administração direta, isonomia de vencimentos para cargos de atribuições iguais ou assemelhadas, salvo os do Poder Executivo, referencial para fixação dos vencimentos dos demais.

Marque a alternativa que está em consonância com a Lei Orgânica do Município:

- A) As alternativas I e II estão incorretas.
- B) As alternativas II e III estão incorretas.
- C) As alternativas I e III estão incorretas.
- D) Todas as alternativas estão incorretas.
- E) Todas as alternativas estão corretas.

26. Marque a alternativa que NÃO está de acordo com o disposto na Lei Orgânica do Município de Lauro Muller:

- A) A publicação dos atos não normativos, pela imprensa, poderá ser resumida.
- B) O diário oficial eletrônico do Município, será disponibilizado em sitio da rede mundial de computadores, para publicação dos atos municipais.
- C) A escolha do órgão de imprensa para a divulgação das leis e atos administrativos far-se-á por meio de licitação.
- D) As Leis e os atos administrativos que produzam efeitos externos só alcançam a sua eficácia com a publicação no Órgão Oficial de Comunicação do Município.
- E) Nenhum ato produzirá efeito antes de sua publicação.

27. Marque a alternativa que NÃO está de acordo com as definições contidas na Lei Municipal nº 1.145/2001.

- I. Emprego público é a soma se atribuições deferidas a um servidor decorrente de um a relação empregatícia de natureza efetiva.
 - II. Emprego é o conjunto de cargos de provimento efetivo e comissionado dos servidores, salvo os aqueles que exercem cargos de chefia, assessoramento e direção.
 - III. Os Planos de Carreira são regidos pelo critério de confiança a que sejam inerentes às atividades de execução e controle.
 - IV. Cargo é o conjunto de atribuições, deveres e responsabilidades deferidas ao funcionário.
- A) Apenas uma alternativa está correta.
 - B) Apenas duas alternativas estão corretas.
 - C) Apenas três alternativas estão corretas.
 - D) Todas as alternativas estão corretas.
 - E) Nenhuma alternativa está correta.

28. Marque a alternativa que está de acordo com o Plano de Carreira estabelecido na Lei nº 1.145/2001.

- A) O quadro de pessoal da Prefeitura de Lauro Muller é composto de efetivos, comissionados e gratificados.
- B) As funções gratificadas, serão regidas pelo critério de antiguidade e merecimento.
- C) Cabe ao chefe do Poder Executivo designar e dispensar o servidor à Função Gratificada, desde que lhe atribua gratificação legal.
- D) A gratificação de função será incorporada ao vencimento sempre que o servidor fizer a opção por remuneração em subsídios.
- E) A função gratificada não serve de base de cálculo para qualquer outra vantagem, exceto para gratificação natalina e de férias.

29. Com relação ao Progresso Funcional, marque a alternativa que não está de acordo com a Lei nº 1.145/2001:

- A) O progresso funcional dar-se-á pela promoção por antiguidade.
- B) O interstício para promoção é trienal.
- C) O progresso funcional dar-se-á pelo merecimento.
- D) O progresso funcional dar-se-á pela qualificação profissional.
- E) Para promoção por antiguidade, levar-se-á em consideração o contínuo e efetivo exercício, salvo o período de licença para tratar de assuntos particulares.

30. De acordo com a Lei nº 1.154/2001 marque a alternativa CORRETA:

- A) A criação, transformação e extinção de empregos, função gratificada e categorias funcionais serão feitas sempre por Decreto do Chefe do Poder Executivo, desde que dentro do limite de cargos do quadro de pessoal.
- B) O concurso público confere direito líquido e certo, ao nele aprovado, à imediata nomeação durante o prazo de sua validade, obedecida a ordem de classificação, computadas as vagas existentes no edital.
- C) O concurso terá prazo de 01 (um) ano, prorrogável mais uma vez por igual período.
- D) São estáveis após 03 anos de serviço público os servidores efetivos e os gratificados, sendo aqueles contados a partir do estágio probatório.
- E) A investidura em emprego público ocorrerá mediante a aprovação prévia em concurso público de provas e títulos.

ESPECÍFICAS

31. Leia o enunciado a seguir e depois assinale a alternativa correspondente.

Nesta tendência historiográfica, o cotidiano assume o lugar privilegiado das lutas sociais, aprofundando-o por meio de questionamentos. Nesse sentido, o passado é concebido como dinâmico, como “matéria viva”, em constante embate com o presente

(tempo histórico).

A que tendência e/ou abordagem historiográfica insere-se a tese apresentada acima?

- A) Abordagem Tradicional.
- B) Abordagem Futurista.
- C) Abordagem Positivista.
- D) Abordagem Temática.
- E) Nenhuma das alternativas.

32. Analise atentamente o conteúdo da afirmativa de Gordon Childe (1975) e o cenário representado pela figura na sequência.

“O domínio do fogo foi, provavelmente, o primeiro passo na emancipação do homem da servidão do ambiente”.

(CHILDE, 1975).

Figura: Domínio do fogo



Fonte: RANULFO, André. Encontrada a mais antiga das evidências do domínio do fogo pelo homem. 15 fev. 2014. Disponível em: <http://torahnerd.blogspot.com.br/2014/02/arqueologia-universidade-de-tel-aviv.html>
Acesso em: 20 fev. 2015.

Como se observa, tanto na tese de Childe como na figura, apresenta-se um contexto que envolve o domínio do fogo, uma das etapas mais importantes no processo de hominização. Nesse sentido, assinale a alternativa que NÃO CORRESPONDE aos benefícios proporcionados por essa etapa ao homem.

- A) Facilitou o cozimento dos alimentos.
- B) Serviu como proteção de outros animais.
- C) Proporcionou iluminação e aquecimento nos dias de frio.
- D) Facilitou a fundição de metais para confecção de ferramentas mais resistentes.
- E) Possibilitou a comunicação e o entendimento entre os grupos de hominídeos.

33. Com base na pergunta a seguir, assinale a alternativa CORRETA.

Quais são as principais características da política econômica, adotada pelas Coroas Espanhola e Portuguesa, no período de administração dos seus domínios coloniais na América?

- A) Metalismo; balança comercial favorável; escambo.
- B) Metalismo; colonialismo; monopólio comercial.
- C) Balança comercial favorável; colonialismo; escambo.
- D) Livre-comércio; industrialismo; colonialismo.
- E) Balança comercial favorável; escambo; industrialismo.

34. Reconhecidos, internacionalmente, estes dois pintores e escultores registraram em suas obras as principais tradições açorianas e outros aspectos importantes da história catarinense, ajudando a divulgar parte da cultura local, para além das fronteiras do estado. Quais os nomes desses pintores e escultores?

- A) Franklin Cascaes e Willy Zumblick.
- B) Victor Meirelles e Pedro Américo.
- C) Cruz e Souza e Pedro Américo.
- D) Ernesto Meyer Filho e Franklin Cascaes.
- E) Nenhuma das alternativas.

35. Com base no enunciado a seguir, assinale a alternativa CORRETA.

Em Santa Catarina, entre os legados culturais dos açorianos, podemos destacar os seguintes:

- A) Festa do vinho, Fenarreco, Oktobertfest.
- B) Semana farroupilha, rota tropeira, rodeio crioulo.
- C) Festa do Divino, festa do Senhor dos Passos, festa de Corpus Christi.
- D) Festa do pinhão, Festa da maçã.
- E) Nenhuma das alternativas.

36. Leia o enunciado a seguir e depois assinale a alternativa correspondente.

Os primeiros núcleos de povoamento de Santa Catarina foram fundados pelos bandeirantes paulistas, que vinham à região caçar índios e acabaram se fixando em regiões portuárias do litoral, onde fundaram três povoados.

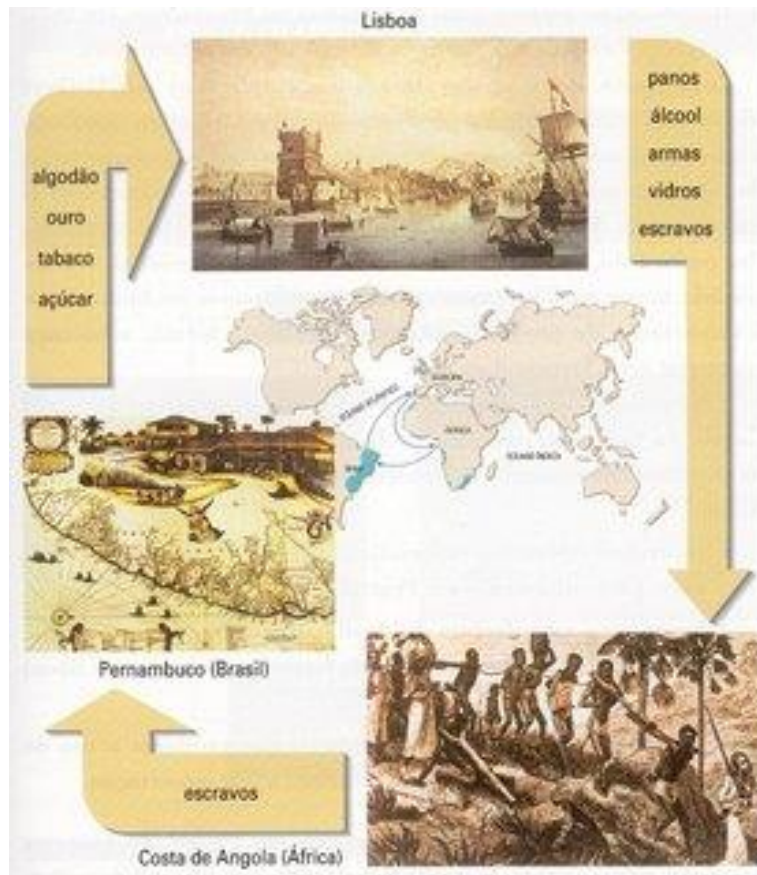
Assinale a alternativa que apresenta o nome de um desses povoados.

- A) Itajaí.
- B) Blumenau.
- C) São Francisco.
- D) São José.
- E) Imbituba.

37. Sobre o processo de montagem da colonização portuguesa é INCORRETO afirmar:

- A) Durante o século XV, a acumulação capitalista realizou-se por meio da circulação de mercadorias, na forma de compra e venda. Em seguida, no século XVI, com a montagem do sistema colonial, a acumulação se deu também no setor de produção, além da circulação. Este foi o caso do açúcar no Brasil.
- B) Em face da montagem açucareira no nordeste e depois a mineração no interior de Minas pode-se dizer que o Brasil caracterizou-se como uma Colônia de Exploração.
- C) As viagens marítimas foram patrocinadas pelos Estados nacionais que, aliados à burguesia mercantil, poderiam financiar os custos e os riscos do empreendimento. Por isso, diz-se que a expansão marítima foi montada na forma de “empresas mistas”.
- D) O colonialismo envolve uma relação bilateral que beneficia inteiramente um lado (metrópole) em detrimento do outro (colônia). Este foi o caso da América Portuguesa.
- E) A orientação mercantilista da época expansionista ensinava que só tinha sentido manter uma colônia se ela consumisse, sobretudo, especiarias ou riqueza metálica.

38. Analise a figura a seguir e depois responda a pergunta.



Fonte: <http://sol.sapo.pt/photos/olindagil/images/384874/original.aspx>

Como ficou conhecido, na historiografia oficial brasileira, o episódio econômico representado na figura?

- A) Tráfico negroiro.
- B) Negócio das Índias.
- C) Comércio açucareiro.
- D) Comércio triangular.
- E) Comércio das especiarias.

39. A Globalização consolidou-se no Brasil a partir dos anos 90, tendo como principais características os seguintes aspectos, EXCETO a:

- A) Expansão do sistema econômico neoliberal.
- B) Transferência de patrimônio privado para o poder público.
- C) Frente de ampla abertura comercial para o mercado externo.
- D) Flexibilização das frentes de trabalho.
- E) Imigração de empresas multinacionais.

40. Analise o seguinte contexto histórico e depois responda a pergunta.

Na madrugada do dia 31 de março de 1964, um golpe militar foi deflagrado contra o governo brasileiro legalmente constituído. A falta de reação do governo e dos grupos que lhe davam apoio foi notável. Não se conseguiu articular os militares legalistas. Também fracassou uma greve geral proposta pelo Comando Geral dos Trabalhadores (CGT) em apoio ao governo.

Na época do golpe militar, quem era o presidente brasileiro legalmente constituído?

- A) João Goulart.
- B) Juscelino Kubitscheck.
- C) Getúlio Vargas.
- D) Castelo Branco.
- E) Costa e Silva.

RASCUNHO DE GABARITO

	A	B	C	D	E
1					
2					
3					
4					
5					
6					
7					
8					
9					
10					
11					
12					
13					
14					
15					
16					
17					
18					
19					
20					

	A	B	C	D	E
21					
22					
23					
24					
25					
26					
27					
28					
29					
30					
31					
32					
33					
34					
35					
36					
37					
38					
39					
40					

